



5 EME : DU MOYEN AGE A L'EPOQUE MODERNE



RÉPONDEZ aux différentes questions à l'aide de la frise numérique.

Je dirige le monde musulman. Je suis un

En 622 ap J.-C., c'est Cet événement marque le début de l' qui croit en un seul dieu (.....). C'est une religion Les musulmans ont un prophète qui s'appelle et un livre sacré A partir du 7ème siècle, ils s'étendent sur le bassin et développent une civilisation brillante.



Je suis J'ai été sacré empereur en av J.-C.



Je dirige l'empire Ma capitale est Je suis aidé par des pour diriger mon vaste empire. Je suis en rivalité avec l'empire

AIDEZ-MOI À NE PAS ME PERDRE DANS MA SEIGNEURIE



INDIQUEZ où se situent : le château – les terres cultivées – l'église – le bourg – les murailles du bourg – le bois seigneurial

- A.
- B.
- C.
- D.
- E.
- F.




COMPLETEZ les mots croisés :

Vertical

- 1 . Seigneur qui accorde sa protection à un vassal.
- 3 . Cérémonie religieuse durant laquelle un roi devient lieutenant de Dieu sur Terre.
- 5 . Cérémonie religieuse au cours de laquelle on devient chevalier.

Horizontal

- 2 . Terre accordée par un suzerain à son vassal.
- 4 . Partie du royaume qui appartient directement au roi.
- 6 . Représentants du roi dans les provinces.
- 7 . Cérémonie au cours de laquelle un vassal s'engage à servir son suzerain.



Je m'appelle et j'ai découvert en ap J.-C.




A la fin du XV^{ème} siècle, les Européens se lancent dans de grandes explorations maritimes. Entre et, les marins de Magellan réalisent le premier Les Européens comprennent que la Terre est

Je m'appelle Je suis un artiste de la


Au XVI^{ème} siècle, l'Europe connaît des bouleversements artistiques et scientifiques qui donnent une nouvelle vision du monde et de l'Homme. Des artistes comme réalisent de véritables chefs d'œuvres.

Les progrès scientifiques sont importants en et se diffusent grâce à



MOYEN AGE

EPOQUE MODERNE

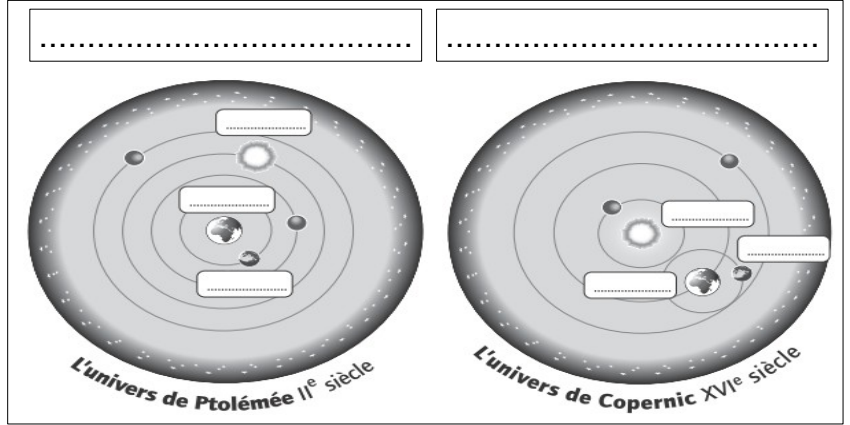


Je suis le soleil . Grâce aux découvertes de , les Hommes ont compris que je suis de l'univers.

1 . PLACEZ dans chaque système les termes suivants : Terre - Lune - Soleil

2 . ENTOUREZ le système qui place la Terre au centre de l'Univers.

3 . INDIQUEZ en rouge le nom de chacun des systèmes au bon endroit : Héliocentrisme - Géocentrisme



Je suis un protestant.

En ap J.-C., un moine allemand prénommé dénonce les abus de l'église catholique. Il crée une nouvelle Église chrétienne : c'est le début de Au XVI^{ème} siècle, L'Europe est déchirée par des guerres de religion entre les et les



LA DIVISION DU CHRISTIANISME

① ② ③

Je porte un manteau , je suis donc un roi de



Au XVI^{ème} siècle, la monarchie française est affaiblie par les conflits religieux mais les rois affirment progressivement leur autorité.

- 1 . François I^{er} est un qui protège les artistes.
- 2 . Henri IV rétablit l'autorité royale. Enap J.-C., il met fin aux guerres de religion par
- 3 est surnommé le Il détient un pouvoir Il fait construire le château de

TROIS GRANDS ROIS DE FRANCE



① ② ③

VERS UN POUVOIR

E
P
O
Q
U
E

M
O
D
E
R
N
E