

## L'ESSENTIEL DU CHAPITRE : Premiers États, premières écritures



I . La cité de Mari en Mésopotamie

II . L'Histoire commence en Orient

A . Les premiers États

B . Naissance et rôle de l'écriture

Je connais :

**O les dates (frise) :** 3500 av J.-C. : Naissance de l'écriture – 3000 av J.-C. : Fondation de Mari  
**O les lieux (carte) :** Égypte – Mésopotamie – Gizeh – Mari – Nil – Euphrate - Tigre  
**O le vocabulaire :** Cité – État – Scribe  
**O les premières écritures :** Pictogramme – Cunéiforme - Hiéroglyphes

Je suis capable de :

**O expliquer** comment la cité de Mari est gouvernée  
**O expliquer** le rôle de l'écriture  
**O différencier** les premières écritures.

## CHAPITRE 4 : Histoire

# PREMIERS ETATS, PREMIERES ECRITURES



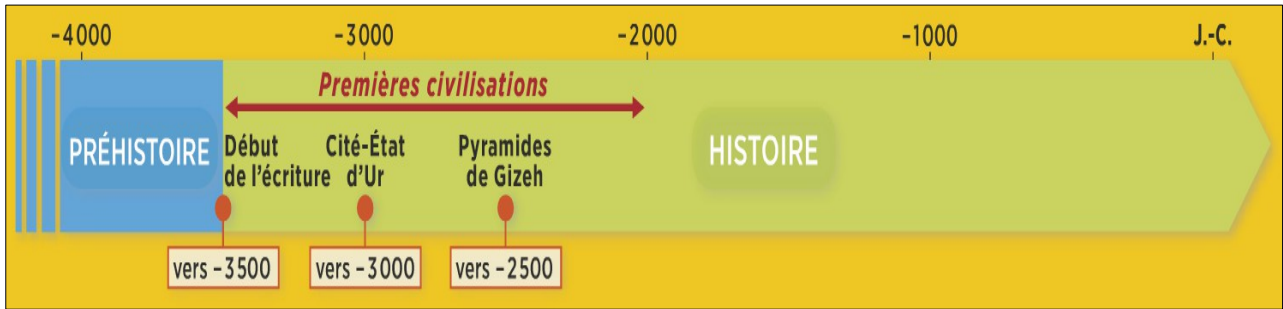
## Introduction :



**DOC 1 PAGE 56** : Les pyramides de Gizeh vers 2500 avant J.-C.

Au III<sup>ème</sup> millénaire avant J.-C., grâce à l'agriculture, les Hommes sont plus nombreux et se regroupent dans les premières villes. Ils utilisent l'écriture pour diriger leurs États.

*Comment les premiers États s'organisent-ils ? Quel est le rôle de l'écriture ?*



**CHRONOLOGIE : Premiers États, premières écritures**

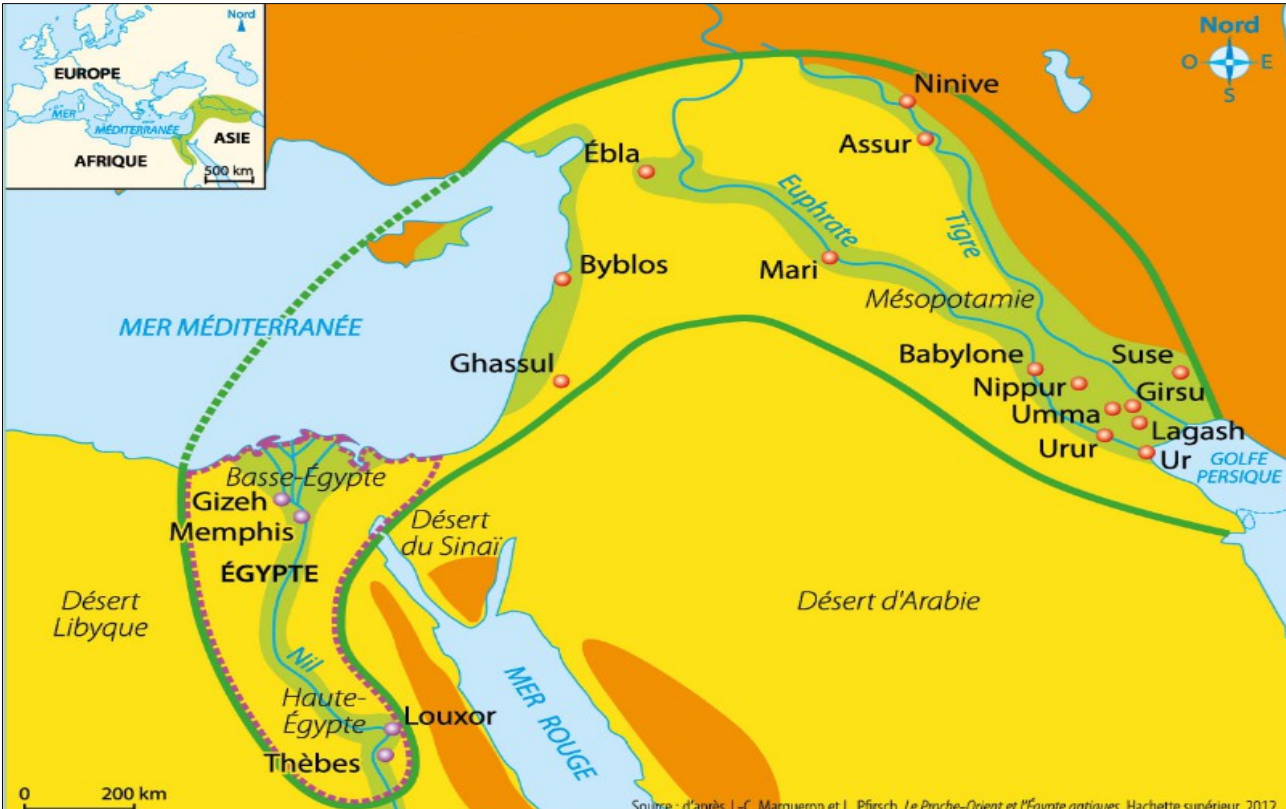
**CHRONOLOGIE : PREMIERS ÉTATS, PREMIÈRES ÉCRITURES**

A partir de quand ce scribe exerce-t-il son métier ? .....

3500 avant J.-C. : **Naissance de l'écriture**



3000 avant J.-C. : **Fondation de Mari**



**1. La naissance d'États indépendants**

- Cité-État mésopotamienne
- Limites du royaume d'Égypte
- Principales villes égyptiennes

**2. Une urbanisation liée au milieu**

- Agriculture irriguée
- Désert
- Montagne et haut-plateau

○ Croissant fertile : zone de naissance de l'agriculture irriguée et des premières écritures

**CARTE PAGE 39 : Le Moyen-Orient : un milieu favorable à l'installation de l'Homme**

# I . Comment la cité de Mari est-elle gouvernée ?

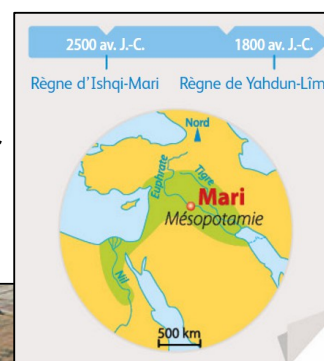


## VIDEO : Mari : une cité en Mésopotamie

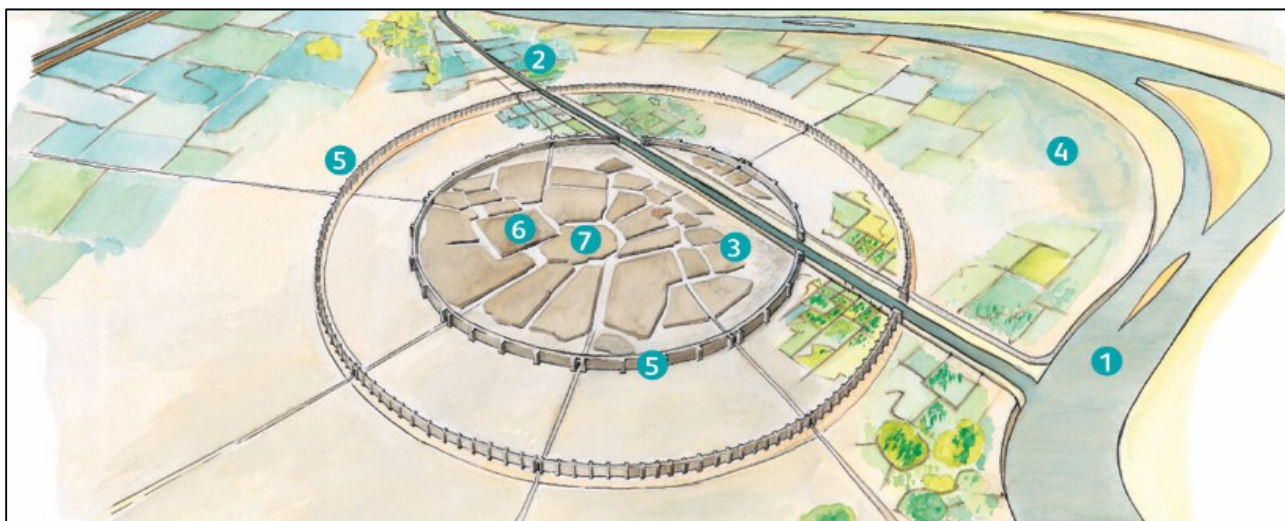
Montage du documentaire « Mari : aux origines de la ville » réalisé par Valérie Girié et Lionel Pouliquen en 2006.

<https://www.youtube.com/watch?v=JDXv1bJ4auk>


**MARI, CITE DE MÉSOPOTAMIE (MANUEL PAGE 40 – 41) :** Rédigez quelques phrases pour expliquer comment la cité de Mari est gouvernée au II<sup>ème</sup> millénaire avant J.-C.



**DOC 1 PAGE 40 :** Vue aérienne récente du site archéologique de Mari



**DOC 1 PAGE 40 :** Reconstitution de la cité de Mari fin du III<sup>ème</sup> millénaire avant J.-C.



**DOC 2 PAGE 41 : L'intronisation du roi de Mari**

**BROUILLON + REDACTION** : Comment la cité de Mari est-elle gouvernée ?

LOCALISATION ET DESCRIPTION DE MARI	ROI : CHEF DE LA CITE ET PROCHE DES DIEUX	UTILISATION DE L'ECRITURE POUR DIRIGER LA CITE

Située en Mésopotamie, Mari est une des premières villes de l'Histoire. Ses habitants pratiquaient du commerce et le travail du métal. Ils étaient dirigés par un roi.

**Cité : Territoire comprenant une ville fortifiée et les campagnes qui l'entourent.**

**État : Territoire délimité par des frontières dont les habitants obéissent au même gouvernement et aux mêmes lois.**

## II . L'Histoire commence en Orient

### A . L'apparition des premiers États



DOC 1 PAGE 40 : Ramsès II, pharaon guerrier (copie de la fresque du temple d'Amon)

#### LES PREMIERS ETATS ET LES PREMIERES CITES

1 . CARTE : L'Orient ancien au III<sup>ème</sup> millénaire avant J.-C.

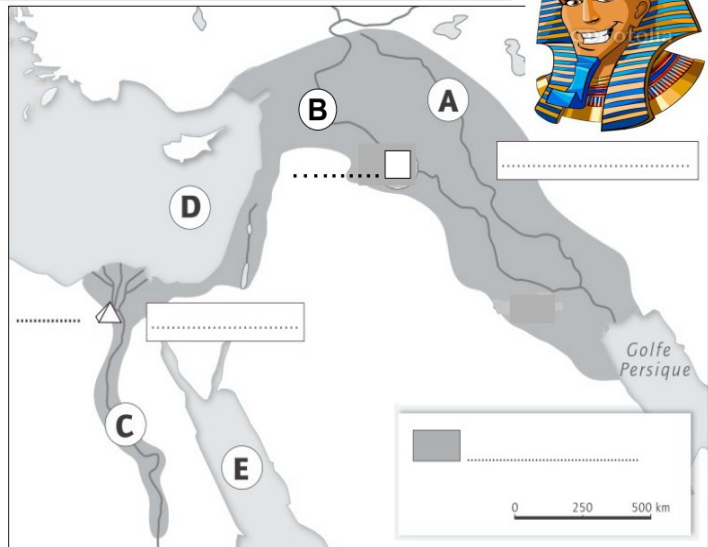
A l'aide de la carte page 39 de votre manuel, **COMPLÉTEZ** la carte en suivant les consignes.

1 . **COLORIEZ** en vert l'espace délimité en gris. **NOMMEZ** cet espace dans la légende.

2 . **INDIQUEZ** sur la carte : Gizeh – Mari – MÉSOPOTAMIE - ÉGYPTE

3 . **NOMMEZ** les fleuves ou les mers qui correspondent aux lettres suivantes :

- A . .....
- B . .....
- C . .....
- D . .....
- E . .....



C3 – PRATIQUER DIFFERENTS LANGAGES : Compléter une carte

2 . VIDEO : Tobar le jeune berger arrive en ville.



#### VIDEO : Tobar, le jeune berger, arrive en ville

Extrait du documentaire « Le sacre de l'Homme » réalisé par Jacques Malaterre en 2007

[https://www.youtube.com/watch?v=HhK\\_Udv8PHE](https://www.youtube.com/watch?v=HhK_Udv8PHE)

Où ?	.....	Quand ?	.....
Le métier de Tobar	.....	Ses impressions devant la cité	.....
Les personnes rencontrées	.....	Les marchandises	.....
Que fait l'homme chauve ?	.....	Pour qui travaille-t-il ?	.....

**C4 – COMPRENDRE UN DOCUMENT** : Extraire des informations d'une vidéo.



**BILAN : L'APPARITION DES PREMIERS ÉTATS ET DES PREMIERES CITES**

**COMPLÉTEZ le texte** ci-dessous avec les mots de la liste suivante : pharaon • premières villes • dieux • IV<sup>ème</sup> millénaire avant J.-C. • empire • campagne • roi • États • Égypte • cité-État • Mari • Mésopotamie

Les premiers ..... sont nés au ..... avec l'apparition des ..... importantes comme .....  
 En ..... , le territoire de l'État est celui de la ville avec sa ..... On parle de ..... Elle est dirigée par un ..... , comme Ur-Nammu. Les hommes pensent que son pouvoir vient des .....  
 En ..... , le roi-dieu s'appelle le ..... Il dirige un grand .....

**B . La naissance et le rôle de l'écriture**



**VIDEO : Tobar veut apprendre à écrire**

Extrait du documentaire « Le sacre de l'Homme » réalisé par Jacques Malaterre en 2007

<https://www.youtube.com/watch?v=HwRhk7KavNo>

**L'INVENTION DE L'ECRITURE**



1 . VIDEO : Tobar veut apprendre à écrire

À qui est réservé l'art de l'écriture ?	.....
Que peuvent faire le rois avec l'écriture ?	.....
Matière utilisée comme support de l'écriture	.....
Que saurait Tobar si sa tribu avait connu l'écriture ?	.....

**C4 – COMPRENDRE UN DOCUMENT** : Extraire des informations d'une vidéo.



## 2. LES PREMIÈRES ÉCRITURES

A l'aide du manuel page 44 - 45, **COMPLETEZ** le tableau ci-dessous.



NOM DE L'ECRITURE	.....	.....	.....
REGION / PAYS D'ORIGINE	.....	.....	.....

L'écriture naît en Mésopotamie vers 3500 avant J.-C.. En Mésopotamie, les Sumériens développent une écriture cunéiforme. En Égypte, les scribes inventent les hiéroglyphes.

**Scribe : Personne spécialiste de l'écriture et du calcul dans l'Antiquité.**

**VOCABULAIRE : 1<sup>ERS</sup> ETATS 1<sup>ERES</sup> ECRITURES**

**COMPLETEZ** les mots croisés ci-dessous :

**Vertical :**

- Écriture avec des signes en forme de clous.
- Région entourée par deux fleuves où est située la cité de Mari.
- Considéré comme un dieu, je suis le roi des Égyptiens
- Je suis un spécialiste de l'Antiquité et du calcul dans l'Antiquité.

**Horizontal :**

- Écriture des Égyptiens
- Territoire comprenant une ville fortifiée et les campagnes qui l'entourent.

**C3 : PRATIQUER DIFFERENTS LANGAGES – S'approprier un vocabulaire historique**

## AU III<sup>ème</sup> MILLENAIRE : APPARITION EN EGYPTE ET EN MESOPOTAMIE



### DES PREMIERS ETATS :

Dirigé par un roi en Mésopotamie et par un pharaon en Égypte

Des fonctionnaires au service du roi

### DES PREMIERES ECRITURES :

Cunéiforme en Mésopotamie et Hiéroglyphes en Égypte

Rôle de l'écriture : Compter – Écrire des lois