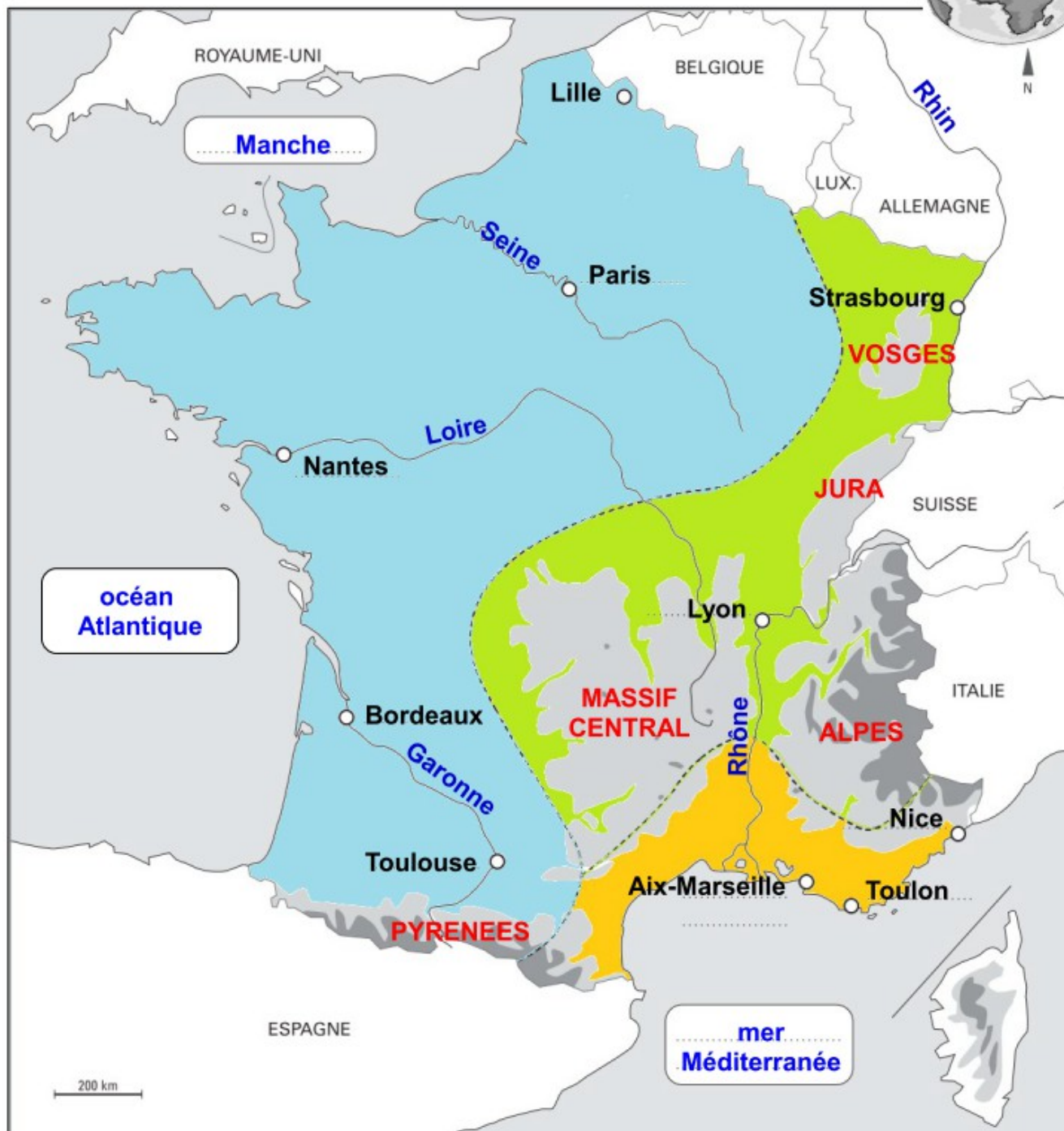


REPERES : LES GRANDS REPÈRES DU TERRITOIRE FRANÇAIS



LÉGENDE :



1 . LOCALISEZ LES ÉLÉMENTS SUIVANTS SUR LA CARTE. (voir manuel page 375)

Principales villes en noir	Fleuves en bleu	Mers et océans en bleu	Chaînes de montagnes en rouge
Lille – Paris – Strasbourg – Nantes – Lyon – Bordeaux – Toulouse – Aix-Marseille – Toulon - Nice	Seine – Rhin – Rhône – Loire - Garonne	Manche – océan Atlantique – mer Méditerranée	VOSGES – JURA – ALPES – MASSIF CENTRAL - PYRENEES

2 . COLORIEZ LES PRINCIPAUX CLIMATS DU TERRITOIRE FRANÇAIS PUIS COMPLETEZ LA LÉGENDE (voir manuel page 375)

L'ESSENTIEL DU CHAPITRE : Les aires urbaines dans la France mondialisée



I . La France : un territoire urbanisé en mutation

A . Toulouse

B . Le développement des villes

II . L'influence des aires urbaines en France

A . L'attractivité des AU

B . Répartition de la population

Je connais :

- O les repères (carte) : Les grands repères du territoire français
- O les lieux (carte) : les 10 premières aires urbaines françaises + Répartition et dynamiques de la population
- O le vocabulaire : Aire urbaine (voir schéma) – Métropolisation – Périurbanisation + fiche vocabulaire

Je suis capable de :

- O décrire et expliquer l'étalement urbain.
- O localiser les 10 premières aires urbaines sur une carte de la France
- O décrire et expliquer la répartition et les dynamiques de la population en France (voir croquis de synthèse)

CHAPITRE 3 : Géographie

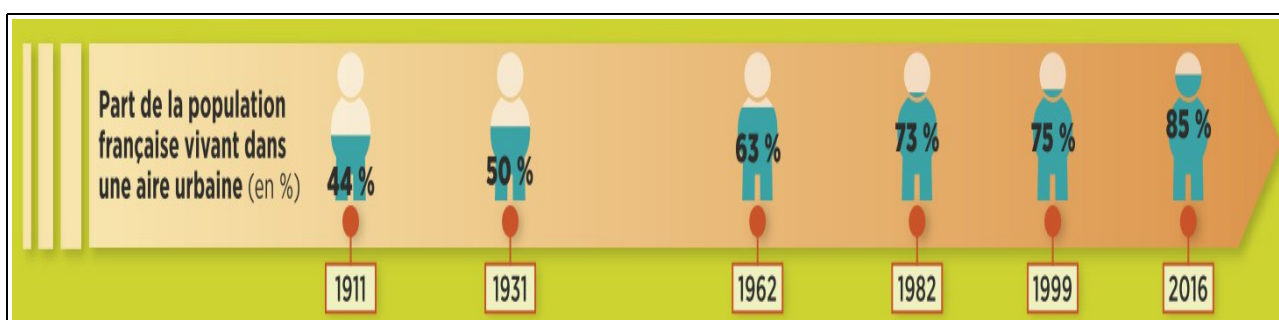
LES AIRES URBAINES DANS UNE FRANCE MONDIALISEE



Introduction :



PHOTOGRAPHIE PAGE 246 : Lattes, en périphérie de Montpellier



FRISE : Évolution de la population urbaine en France au XX^{ème} siècle

Les Français sont de plus en plus nombreux à vivre en ville. Cette croissance urbaine transforme totalement le territoire français.

I . La France : un territoire urbanisé en mutation



Quelles sont les évolutions des villes en France ?

A . Toulouse : une aire urbaine attractive aux paysages variés



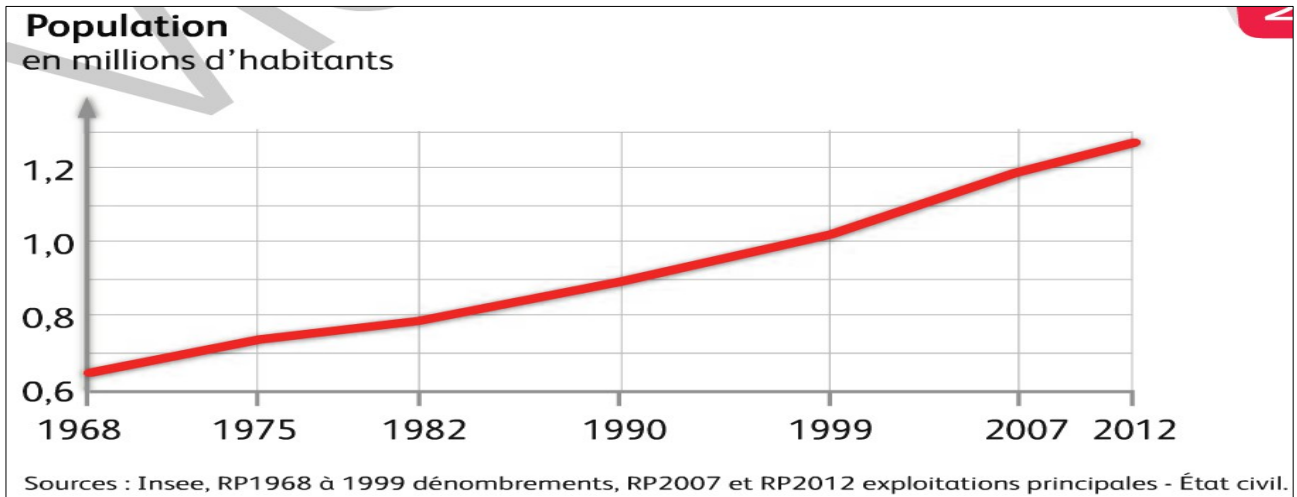
TOULOUSE : UNE AIRE URBAINE ATTRACTIVE AUX PAYSAGES VARIÉS : Répondez aux 6 questions du manuel page 248 – 251.



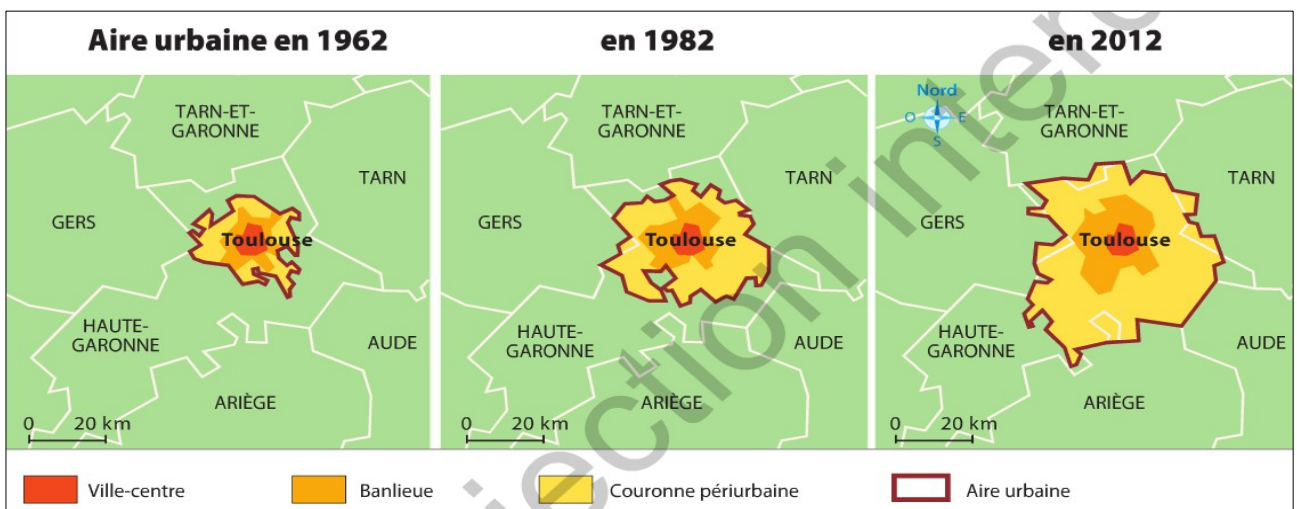
DOC 1 PAGE 248 : Toulouse, une urbanisation qui se diffuse

1 . Toulouse se situe dans le sud ouest de la France le long des rives de la Garonne.

2 . L'aire urbaine de Toulouse attire les populations et les activités en effet la population a doublé depuis 1968. Elle est composée aujourd'hui d'environ 1,2 million d'habitants. Les activités comme l'aéronautique sont également nombreuses.



DOC 2 PAGE 248 : La croissance de la population de l'aire urbaine de Toulouse



DOC 4 PAGE 249 : L'étalement dans l'aire urbaine de Toulouse entre 1962 et 2012.

3 . Ces dynamiques entraînent un agrandissement de l'aire urbaine de Toulouse qui s'étale sur les espaces ruraux et agricoles environnants.

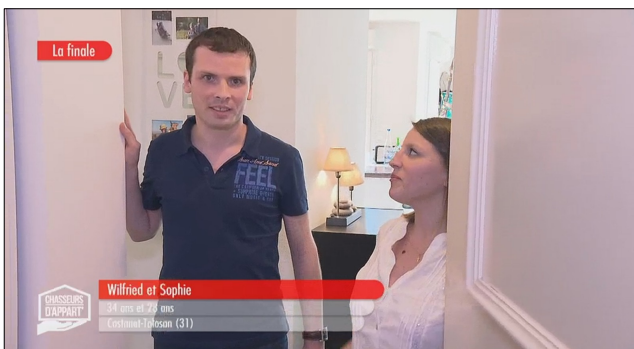


DOC 6 PAGE 250 : De grands ensembles dans la proche banlieue (Le Mirail).



DOC 8 PAGE 251 : La ZAC Andromède à la périphérie de Toulouse

4 . Dans le quartier du Mirail, on voit des grands ensembles dans lesquels les personnes vivent. Dans la ZAC Andromède, on aperçoit un quartier résidentiel composé de pavillons et des grands batiments commerciaux le long de la route.



VIDEO : Wilfried et Sophie recherche une ferme près de Toulouse


Extrait de l'émission "Chasseurs d'appart" diffusé sur M6 en 2016 :

www.6play.fr/chasseurs-d-appart-p_5094/toulouse-et-sa-banlieue-journee-5-c_11589490

5 . Ils se sont installés au Sud Est de Toulouse dans un petit village proche d'un accès autoroute car ils viennent d'avoir des jumelles.

6 . Les éléments qui rendent possible ce changement de domicile sont un immobilier moins cher à la campagne et les moyens de transport moderne.

TOULOUSE : UNE AIRE URBAINE ATTRACTIVE ET DYNAMIQUE



UNE VILLE ATTRACTIVE

Forte croissance de la population
Fort étalement urbain et grande variété des paysages (centre ville - banlieue – périurbain)



UNE VILLE DYNAMIQUE

Centre industriel (aéronautique) et universitaire
Grand bassin d'emploi

B . Développement et mutation des villes



PHOTOGRAPHIE : Lotissements près de Nancy

VIDEO : L'histoire de l'étalement urbain

Extrait de l'émission « C'est pas sorcier - Transports en commun quand la ville change d'air »
(minutes 1 à 8)

<https://www.youtube.com/watch?v=HDAgAR8FfHE>



BILAN : Mutation et développement des villes en France

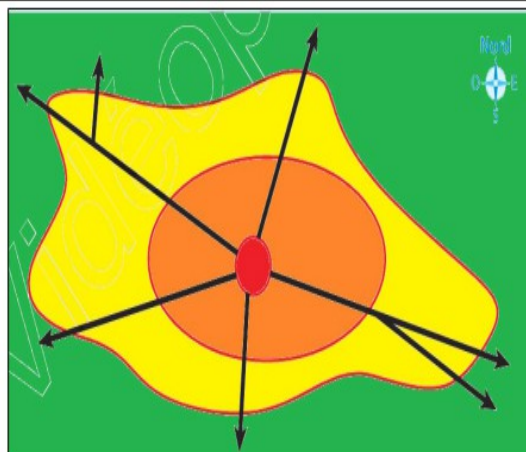
1 . SCHEMA : L'aire urbaine

COMPLÉTEZ le schéma de l'aire urbaine à l'aide du manuel page 261 :

1 . **COLORIEZ en rouge** le centre-ville, **en orange** la banlieue, **en jaune** la couronne périurbaine et **en vert** l'espace rural.

2 . **ENTOUREZ en rouge** le pôle urbain et **en bleu** l'aire urbaine

3 . **COMPLÉTEZ** la légende.



- Ville-centre
 - Banlieue
 - Couronne périurbaine
 - Espace rural
- } **PÔLE URBAIN** } ...

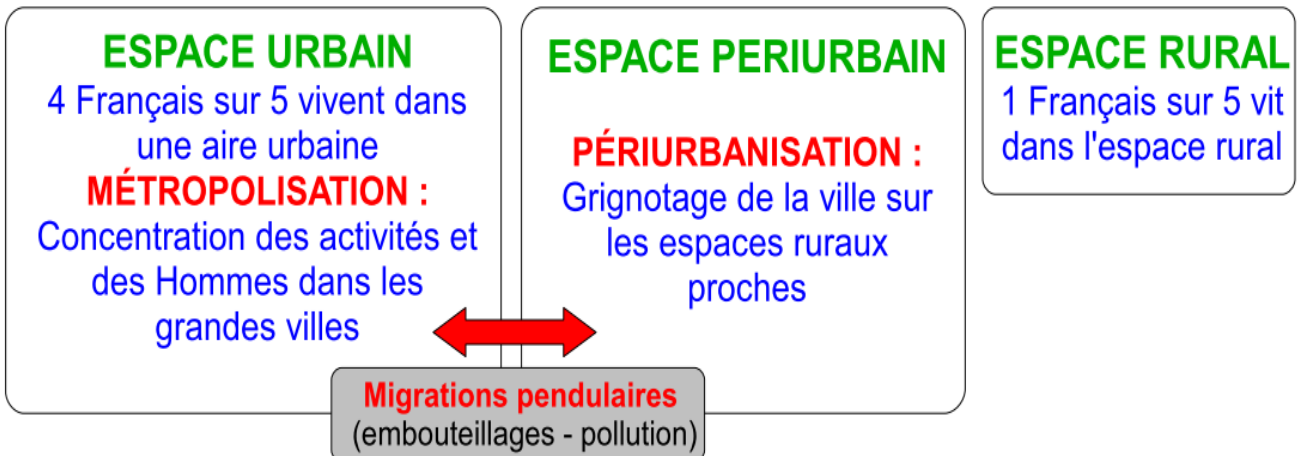
2 . VOCABULAIRE DU GEOGRAPHE : RELIEZ la bonne définition à chaque mot.

- | | | |
|----------------------|---|---|
| Étalement urbain | • | • Urbanisation en périphérie. |
| Migration pendulaire | • | • Croissance spatiale supérieure à la population. |
| Périurbanisation | • | • Aller-retour quotidien effectué par une personne de son domicile à son travail. |
| Aire urbaine | • | • Ensemble de communes constitué par un pôle urbain et une couronne périurbaine. |



La France est fortement urbanisée. Les villes sont de plus en plus peuplées et s'étendent sur l'espace rural. On parle d'étalement urbain.

ÉTALEMENT URBAIN



JE SUIS LE MEILLEUR AGENT IMMOBILIER DE BEAUVAIS

Une agence immobilière vient de s'installer à Beauvais. Afin de recruter du personnel compétent, elle met en place un concours de vente immobilière. Afin d'être embauché, vous devez donc trouver le bien idéal aux clients suivants :

1 . FAMILLE TRUCMUCHE

Le père : Carlos (32 ans, mécanicien)
La mère : Carlita (31 ans, informaticienne)
2 enfants : Pépita (6 ans en CP) – Pépito (6 mois)
2 animaux de compagnie : le chien Ouafouaf et le chat Miaoumiaou

2 . CARACTERISTIQUES DU BIEN RECHERCHE

La famille TRUCMUCHE habite un appartement au centre-ville de Beauvais. Avec la naissance de Pépito, l'appartement est devenu trop petit. Ils recherchent donc :

1 maison de 100 m² (au minimum) situé à 30 minutes au maximum de Beauvais : 3 chambres – 1 bureau – Salon et cuisine ouverte – 1 salle de bain avec baignoire - Jardin – Garage – Bonne connexion internet

3 . BUDGET : 210 000 euros si coup de cœur possibilité d'augmenter le budget à 230 000 euros

ALLEZ SUR LE SITE :
Le bon coin

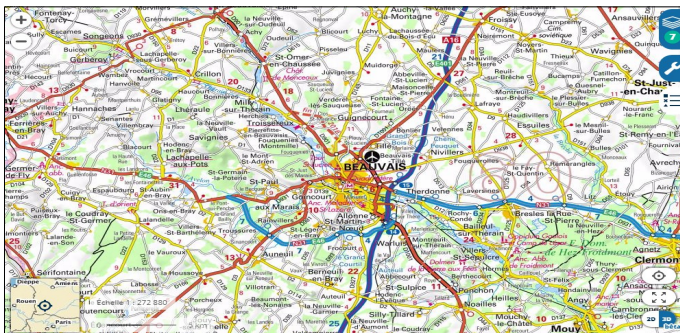


TAPEZ : la localisation et les principales caractéristiques du bien immobilier recherché.



CONSULTEZ les annonces immobilières

C3 – PRATIQUER DIFFERENTS LANGAGES : S'initier aux techniques d'argumentation.



SITE INTERNET : Géoportail

La découverte de Beauvais et les communes périurbaines

<https://www.geoportail.gouv.fr/carte>

SITE INTERNET : Leboncoin

A la recherche du bien idéal pour la famille TRUCMUCHE

<https://www.leboncoin.fr/>



leboncoin.fr
vendez, achetez, près de chez vous



II . L'influence des aires urbaines sur le territoire français



Quelle influence les aires urbaines exercent-elles sur le territoire français ?

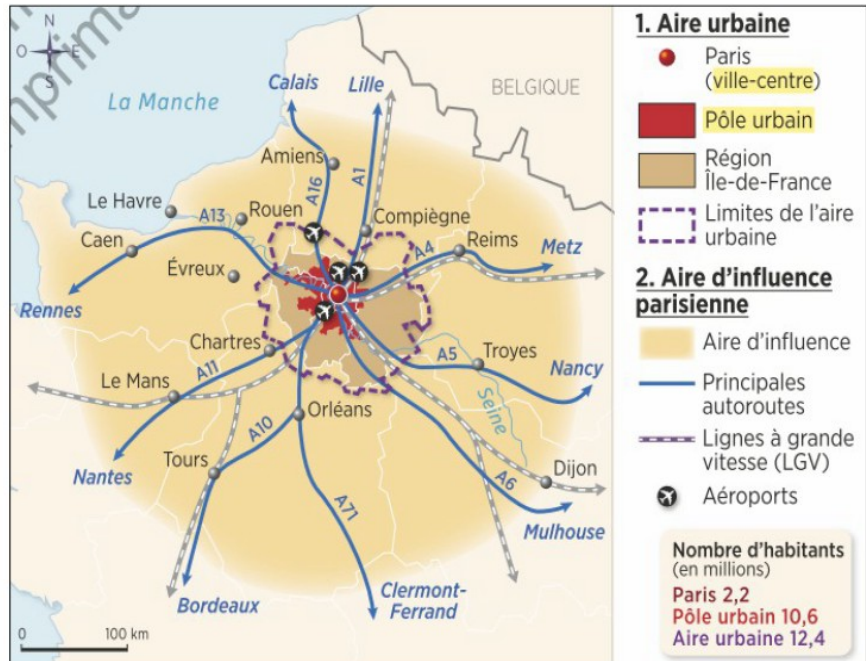
A . L'attractivité des grandes aires urbaines



L'AIRES D'INFLUENCE PARISIENNE EN FRANCE

« L'aire urbaine de Paris s'étend au-delà de la région Île-de-France vers Beauvais, Compiègne, Chartres, Évreux. À l'échelle du bassin parisien, la région économique s'étend jusqu'à Amiens, Caen, Orléans, Troyes. Le TGV a repoussé les banlieues parisiennes (Reims est à 45 minutes de la gare de l'Est). L'influence de l'aire parisienne s'élargit. Dans ces conditions, l'idée de Paris-sur-Mer, émise au XIX^{ème} siècle, ressurgit avec l'intégration de la Basse-Seine jusqu'à l'estuaire [au Havre]. L'intégration d'un tel espace régional est un des critères de ville mondiale : nécessité d'une articulation étroite avec une façade littorale, installations portuaires performantes. Le Havre deviendrait le port de Paris. »

D'après Vincent Adoumie (dir.), Les régions françaises, Hachette Supérieur, 2013.



- 1 . **INDIQUEZ** le nombre d'habitants de la commune de Paris ? Du pôle urbain ? De l'aire urbaine ?
- 2 . **ENTOUREZ** sur la carte : en rouge les limites de l'aire urbaine parisienne et en vert l'aire d'influence de Paris. Que constatez-vous ?
- 3 . Comment le réseau de transport manifeste-t-il l'influence parisienne ?
- 4 . Quel est le port de Paris ? Que permet-il ?

1 . La commune de Paris : 2,2 millions d'habitants
Le pôle urbain : 10,6 millions
L'aire urbaine : 12,4 millions.

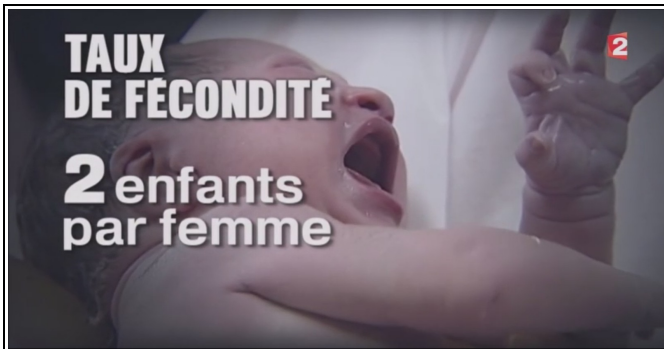
2 . On constate que l'aire d'influence parisienne s'étend bien au-delà des limites de l'aire urbaine.

3 . Le réseau de transport montre l'influence parisienne car il est dense et varié au niveau de la capitale (aéroport, LGV, autoroutes). Toutes les routes convergent vers Paris. On parle de réseau en étoile.

4 . Le port de Paris est Le Havre. Il relie Paris à une grande route maritime mondiale.

La métropolisation renforce les aires urbaines régionales. Ces grandes villes qui concentrent les activités et les richesses étendent leur influence sur un espace essentiellement rural.

B . Répartition et dynamiques de la population



VIDEO : Démographie et répartition de la population française

Montage de reportages du journal télévisé de France 2.

VIDEO : La population française et sa répartition sur le territoire



1 . LA DEMOGRAPHIE FRANCAISE : L'évolution de la population française

Chiffre de la population	Évolution de la population (Hausse / Baisse)
Raisons de cette évolution		

2 . REPARTITION DE LA POPULATION SUR LE TERRITOIRE NATIONAL

A . Régions attractives et raisons	B . Régions en déclin et raisons
.....
.....

REPARTITION ET DYNAMIQUES DE LA POPULATION



UN PEUPLEMENT INEGAL

- 1 . Poids important de Paris (20 % population totale)
- 2 . Régions « pleines » : Nord-Est, les grandes vallées et les littoraux
- 3 . Diagonale du vide : du Massif central aux Ardennes



UNE POPULATION MOBILE

- 1 . Accroissement naturel et vieillissement de la population
- 2 . ESPACES ATTRACTIFS : Grandes villes et espaces périurbains – Littoraux – Régions du sud
- 3 . DÉSERTIFICATION : Régions rurales

VOCABULAIRE : La population et sa répartition en France



RELIEZ la bonne définition à chaque mot de vocabulaire.

Héliotropisme	·	· Concentration des hommes et des activités sur le bord de mer.
Diagonale du vide	·	· Attirance des populations pour les régions ensoleillées.
Littoralisation	·	· Vastes régions des Ardennes aux Pyrénées faiblement peuplées.
Accroissement naturel	·	· Différence entre les naissances et les décès



<p>1. Une population inégalement répartie</p> <p>Densité de population</p> <ul style="list-style-type: none"> Supérieure à 100 hab./km² Entre 50 et 100 hab./km² Inférieure à 50 hab./km² 	<p>2. Une population qui se concentre dans les aires urbaines</p> <ul style="list-style-type: none"> Grands flux migratoires internes Aire urbaine parisienne qui rayonne sur l'ensemble du territoire français Aire urbaine Autre agglomération importante 	<p>3. Des aires urbaines reliées entre elles par des réseaux de transports</p> <ul style="list-style-type: none"> Axe de transports majeur (TGV, autoroutes) Aéroports internationaux Carrefour majeur
---	---	--

Sources : www.senat.fr; www.insee.fr

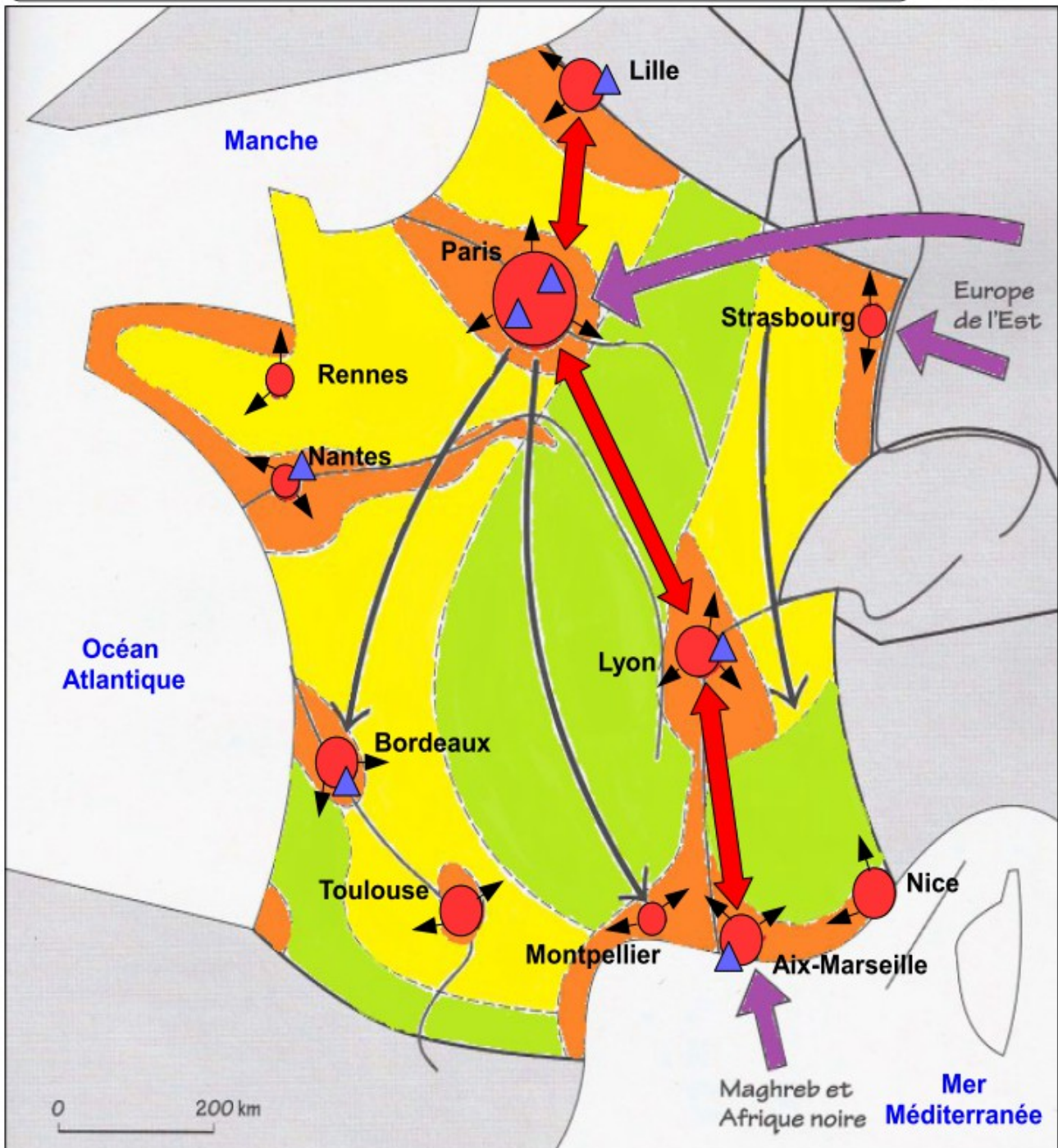
CARTE PAGE 263: Les aires urbaines, une nouvelle géographie d'une France mondialisée

SYNTHESE : Répartition et dynamiques de la population française



COMPLÉTEZ le croquis de synthèse à l'aide du manuel page 263.

- 1 . INDIQUEZ en bleu le nom des villes sur la carte.
- 2 . COMPLÉTEZ la légende (couleurs – intitulé de la légende)
- 3 . COLORIEZ la carte et AJOUTEZ les figurés manquants



1 . Une répartition inégale	2 . Une France urbanisée	3 . Les dynamiques de peuplement
<p>Orange Forte densité de population</p> <p>Yellow Densité moyenne de population</p> <p>Green Faible densité de population</p>	<p>Red circles Principales villes</p> <p>Black arrow Etalement urbain</p> <p>Red double arrow Axes de transport majeur</p> <p>Blue triangle Aéroport international</p>	<p>Dotted line Migrations internes</p> <p>Purple arrow Flux d'immigrations</p> <p>White box Régions attractives</p>