

HABITER DES ESPACES A FORTES CONTRAINTES

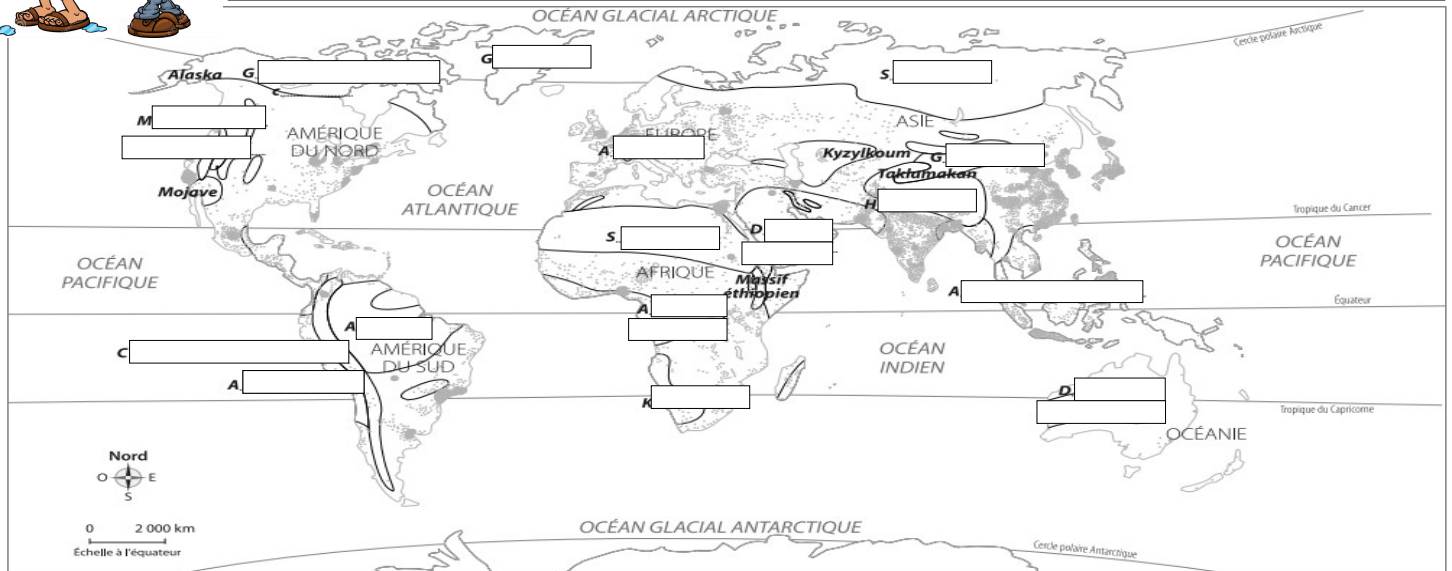


- 1 . ALLEZ sur le site : geohistoire.e-monsite.com
- 2 . CLIQUEZ dans l'onglet 6 EME – GEOGRAPHIE – Les espaces contraignants – Habiter un espace a fortes contraintes naturelles



I . JE LOCALISE SUR UNE CARTE DES ESPACES À FORTES CONTRAINTES





- 1 . LOCALISEZ et NOMMEZ sur la carte les différents déserts humains
- 2 . COLORIEZ les espaces concernés et COMPLETEZ la légende.



..... 1 point représente environ 500 000 habitants

- | | | | |
|---|--|--|---|
| <p><input type="checkbox"/> Les déserts chauds :</p> <ul style="list-style-type: none"> - forte aridité - températures chaudes - végétation absente ou très rare sauf dans les oasis | <p><input type="checkbox"/> Les déserts froids :</p> <ul style="list-style-type: none"> - aridité - températures très froides - végétation absente ou toundra | <p><input type="checkbox"/> Les hautes montagnes :</p> <ul style="list-style-type: none"> - pentes fortes - températures basses - végétation étagée (forêts puis pelouses) qui change avec l'altitude et disparaît vers 3 000 m | <p><input type="checkbox"/> Les forêts tropicales :</p> <ul style="list-style-type: none"> - pluies abondantes toute l'année - températures chaudes - végétation très riche et grande biodiversité |
|---|--|--|---|

II . JE PRÉSENTE LES ESPACES À FORTES CONTRAINTES : COMPLETEZ le tableau

	Description du paysage et climat (température et précipitations)	Quelle est la contrainte naturelle ?	Comment l'Homme s'adapte à cette contrainte ? (activités)
 Désert froid			
 Désert chaud			
 Forêt dense			
 Montagne			

III . JE REDIGE UN TEXTE SUR LES ESPACES À FORTES CONTRAINTES

REDIGEZ un texte d'environ 10 lignes qui compare deux espaces à fortes contraintes naturelles de votre choix. Utilisez les mots de liaison suivants : d'une part/d'autre part – au contraire – tandis que – alors que – à l'inverse ...



